

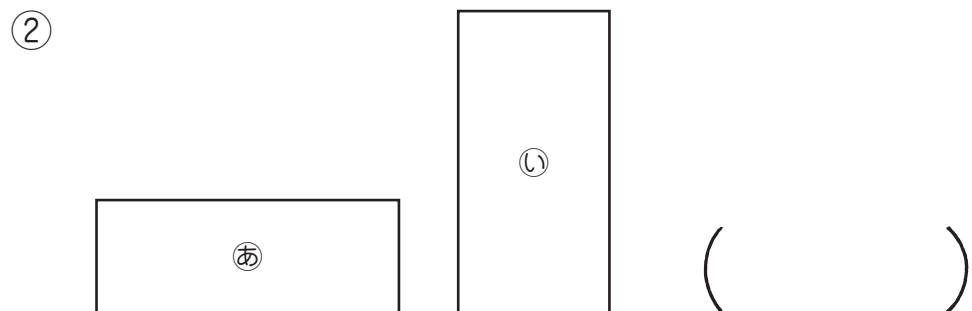
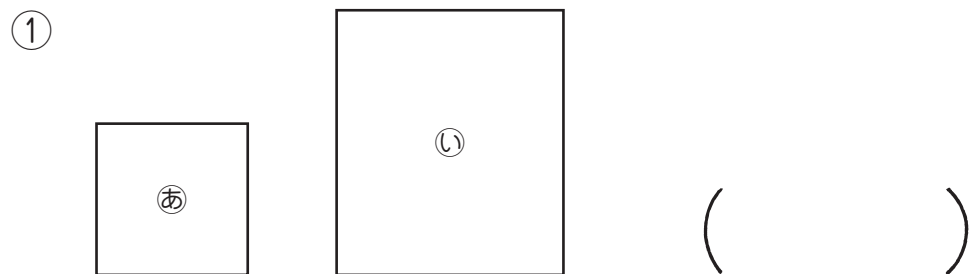
面積 ①

名

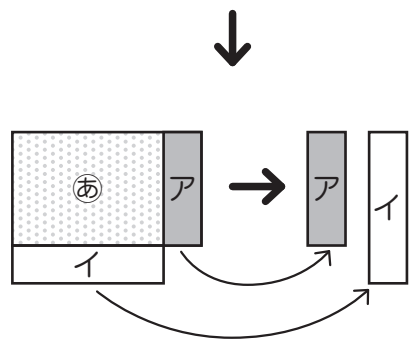
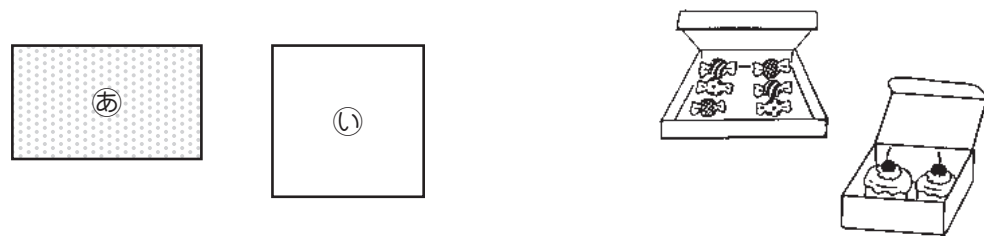
●広さくらべ

前

1 どちらが広いでしょうか。



2 どちらが広いか、くらべましょう。



②と①のどちらが広いでしょうか。

()

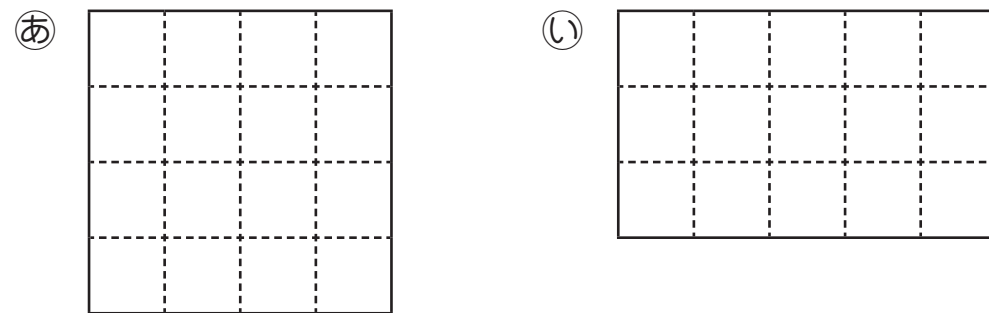
面積 ②

名

●広さくらべ

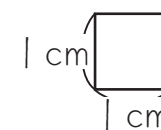
前

1 広さをくらべましょう。



① □ がいくつあるでしょうか。
 ② どちらが広いでしょうか。 () ()

1辺が1cmの正方形の面積を一平方センチメートル (1cm²) といいます。
 cm²は、面積の単位です。



2 cm²の書き方を練習しましょう。



3 次の6つの形は、全部1cm²です。なぜそうなのか考えましょう。(□は1cm²です。)

