


わり算 あまりなし ① 名

●等分除 前

1 12このあめを4人に同じように分けると、1人分は何こになるでしょうか。

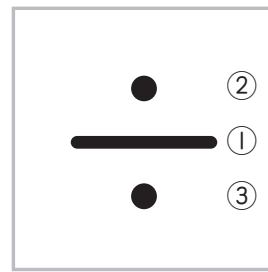


式 $12 \div 4 = 3$

答え 3こ

12 ÷ 4 = 3の答えは4のだんの九九で見つけられます。


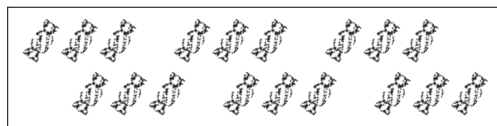
$4 \times 1 = 4$
 $4 \times 2 = 8$
 $4 \times \textcircled{3} = \textcircled{12}$



書きじゆん

2 18このあめを6人で同じように分けると、1人分は何こになるでしょうか。

① 絵を見て答えをもとめましょう。



答え こ

② 式に書きましょう。


式 $18 \div 6 = 3$

答え _____

わり算 あまりなし ② 名

●等分除 前


1 21まいの色紙を3人に同じように分けると、1人分は何まいになるでしょうか。



式

答え _____

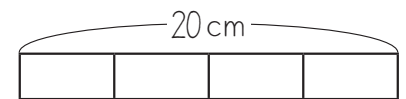
2 15本のえんぴつを5つのはん^{くば}に同じように配ると、1つのはん^{くば}に何本ずつになるでしょうか。



式

答え _____

3 20cmのテープを同じ長さになるように4本に切り分けると、切り分けた1本の長さは、何cmになるでしょうか。



式

答え _____