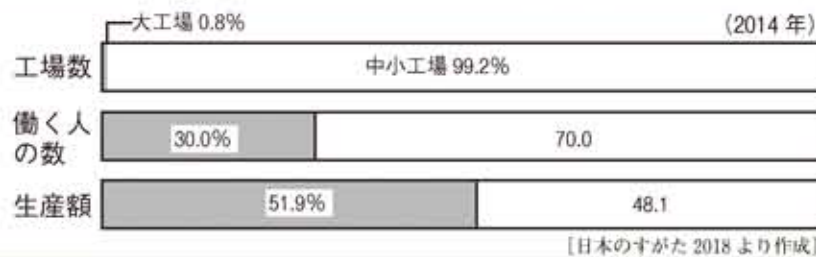


11 大工場と中小工場



1 次のグラフは、大工場と中小工場の割合を表しています。



多くの外国人労働者が働いているんだ。



★-グラフの読みとり

① 中小工場と大工場では、どちらの工場の数が多いですか。

工場

② 中小工場と大工場では、働く人の数はどちらが多いですか。

工場

③ 生産額においては、大工場と中小工場とではどうなっていますか。

ほぼ 半分

★-変化の背景

次の文の()にあてはまる言葉を「 」から選んで書きましょう。

- 大工場では、工場の(①)が進み、大量生産ができるので、働く人が少なくても生産額が多くなります。
- 中小工場では、最先端の施設や独自のすぐれた(②)を持っているところもありますが、(③)にたよるところも多いため、生産額は少ないです。

手作業 技術 機械化

ねらい
月 日

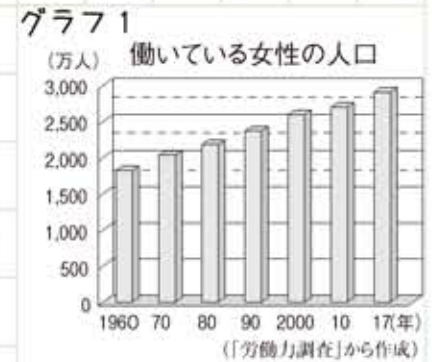
工場で働いている人々の現状をグラフから読みとる。

2 次のグラフを見て、あとの問いに答えましょう。

★-グラフ1の読みとり

働く女性の数は、1960年と2017年を比べると、どれくらい増えていますか。

約 倍



★-グラフ2の読みとり

- 働いている女性がいちばん多いのは(①)才です。
- 30～34才までの働く人の割合はおよそ(②)%です。
- 20才以上で働く人の割合が60%以下になるのは、(③)才からです。



★-変化の背景

次の文の()にあてはまる言葉を「 」から選んで書きましょう。

働く女性は(①)続けていますが、(②)や育児や親の(③)などで仕事が続けにくいという問題があります。

介護 出産 増え

男性に比べて、賃金が安いという問題もあるよ。

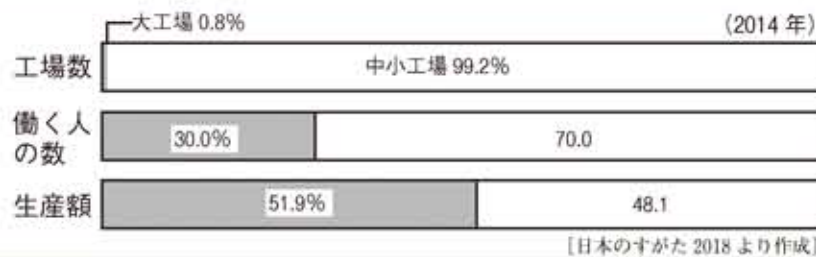


11 大工場と中小工場



学習日 月 日 点 / 13点 名前

1 次のグラフは、大工場と中小工場の割合を表しています。



多くの外国人労働者が働いているんだ。



★-グラフの読みとり

- ① 中小工場と大工場では、どちらの工場の数が多いですか。 工場
- ② 中小工場と大工場では、働く人の数はどちらが多いですか。 工場
- ③ 生産額においては、大工場と中小工場とではどうなっていますか。 ほぼ

★-変化の背景

次の文の()にあてはまる言葉を「 」から選んで書きましょう。

- 大工場では、工場の(①)が進み、大量生産ができるので、働く人が少なくても生産額が多くなります。
- 中小工場では、最先端の施設や独自のすぐれた(②)を持っているところもありますが、(③)にたよるところも多いため、生産額は少ないです。

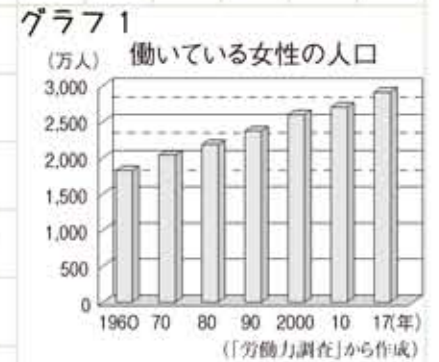
手作業 技術 機械化

2 次のグラフを見て、あとの問いに答えましょう。

★-グラフ1の読みとり

働く女性の数は、1960年と2017年を比べると、どれくらい増えていますか。

約 倍



★-グラフ2の読みとり

- 働いている女性がいちばん多いのは(①)才です。
- 30～34才までの働く人の割合はおよそ(②)%です。
- 20才以上で働く人の割合が60%以下になるのは、(③)才からです。



★-変化の背景

次の文の()にあてはまる言葉を「 」から選んで書きましょう。

働く女性は(①)続けていますが、(②)や育児や親の(③)などで仕事が続けにくいという問題があります。

介護 出産 増え

男性に比べて、賃金が安いという問題もあるよ。

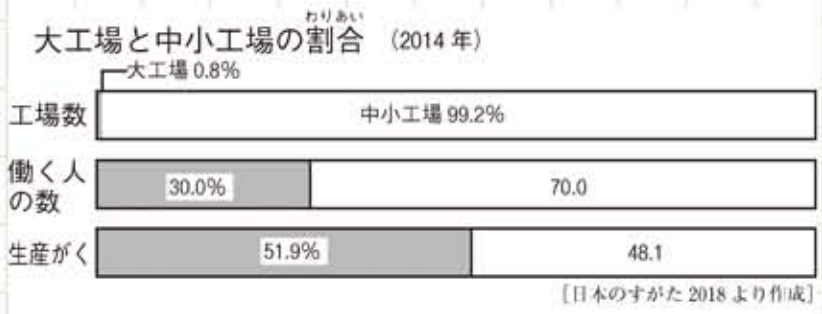


11 大工場と中小工場




学習日 月 日 点 / 9点 名前

1 次のグラフを見て、あとの問いに答えましょう。

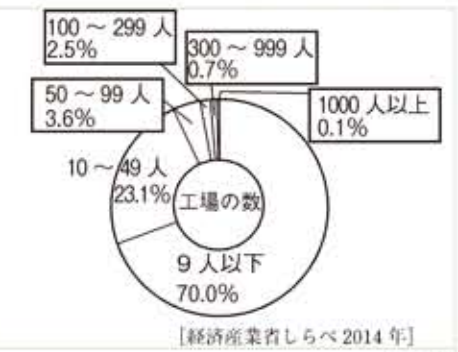


- (1) 上のグラフについて正しいものに、○をつけましょう。
- ㊶ () 中小工場の数と大工場の数は、同じくらいである。
 - ㊷ () 働いている人の数は、中小工場より大工場のほうが多い。
 - ㊸ () 中小工場の生産額と大工場の生産額は、同じくらいである。

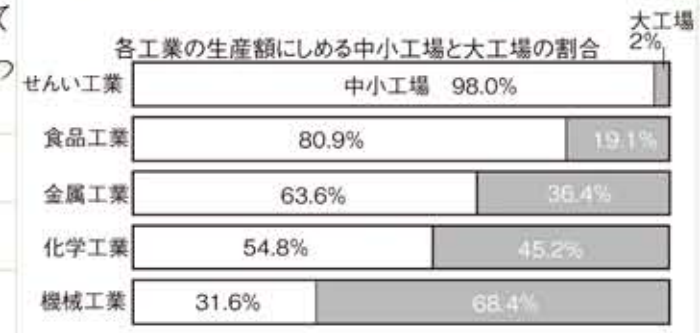


- (2) 上のグラフを見て、次の問いに答えましょう。
- ① 1人あたりの生産額を比べると、1000人以上の工場は9人以下の工場のおよそ何倍ですか。
- およそ 倍
- ② 1人あたりの賃金は大工場と中小工場では、どちらが多いですか。
- 工場

(3) 右のグラフから、働く人の数がいちばん多いのは何人くらいの規模の工場ですか。



(4) 右のグラフについて正しいものに、○をつけましょう。



- ㊶ () せんい工業では、大工場の生産額のほうが多い。
- ㊷ () 重工業の生産額では、中小工場のしめる割合が多い。
- ㊸ () 軽工業の生産額では、中小工場のしめる割合が多い。

2 働いている人たちの問題について、()にあてはまる言葉から選んで書きましょう。

- (1) 女性は出産や(①)、介護などを理由に、男性より(②)が安かったり、やりたい仕事につけないなどの問題が起こっています。
- (2) (①)から日本に働きに来ている人たちが、日本人より(②)賃金や条件の良くない環境で働かされているという問題があります。
- 外国 賃金 安い 育児