

7 中部地方 ①



1 次の中部地方の①～⑨の県名を□に書き、③・⑦・⑨の県庁所在地名は【 】に書きましょう。また、それぞれの県を好きな色でぬりましょう。

③ 石川 県
【金沢】市
コシヒカリ

① 新潟 県
ポタリイカ
りんご

② 富山 県
兼六園

④ 福井 県
かに

⑤ 長野 県
富士山

⑦ 山梨 県
【甲府】市

⑥ 岐阜 県
ぶどう

⑨ 愛知 県
【名古屋】市
お茶

⑧ 静岡 県

ねらい 各県の特産物から県をイメージして、白地図に色をぬって県名や地形名を覚えていきましょう。

2 次の地形名を□に書きましょう。山脈は茶、川は青、平野は緑に色をぬりましょう。

ア 飛騨 山脈 } 日本アルプス

イ 木曾 山脈 }

ウ 赤石 山脈 }

佐渡島

信濃 川

越後 平野

富山平野

五箇山

兼六園

白川郷

濃尾 平野

木曾 川

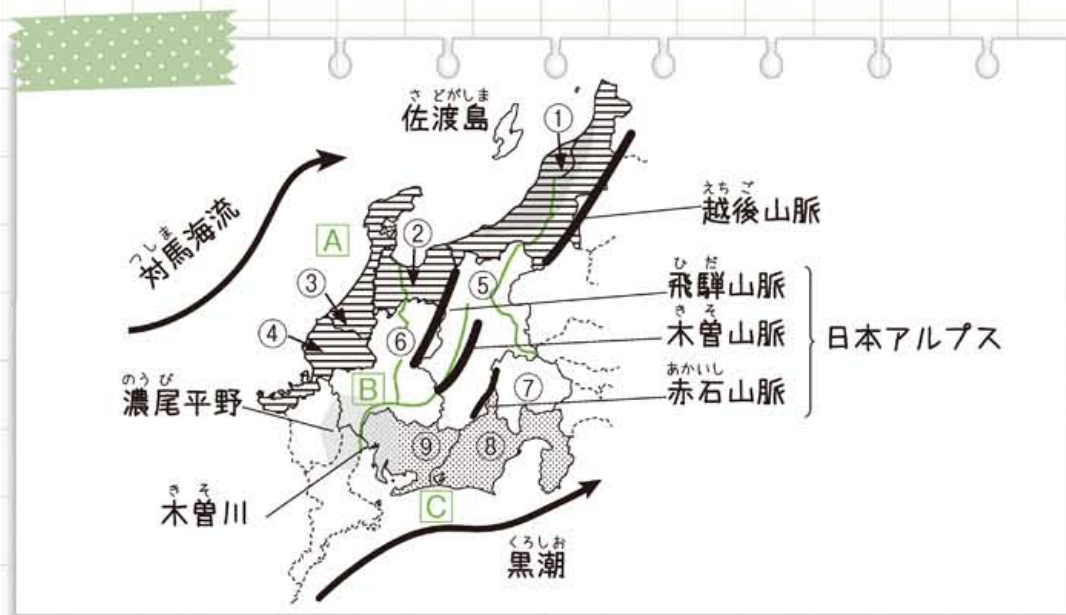
越後 山脈

富士山

7 中部地方 ②



1 次の地図を見て、あとの問いに答えましょう。



地図のA~Cの地方名と県名を書きましょう。

	地方名	県名	
A	() 地方	① 県	② 県
		③ 県	④ 県
B	()	⑤ 県	⑥ 県
		⑦ 県	
C	() 地方	⑧ 県	⑨ 県

《地方名》 とうかい 東海 ぼくりく 北陸
ちゅうおうこうち 中央高地

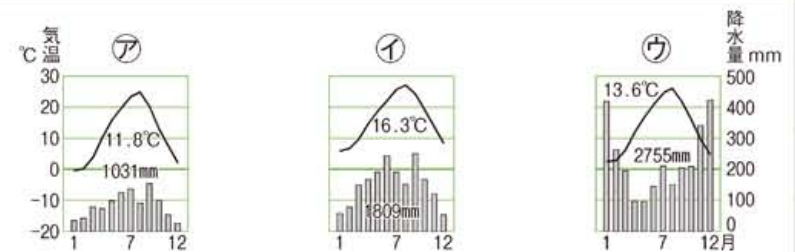
《県名》 ながの 長野 とやま 富山 あいち 愛知
しずおか 静岡 ふくい 福井 ぎふ 岐阜
にいがた 新潟 いしかわ 石川 やまなし 山梨

学習日 月 日 点 / 23点 名前

2 次のA~Cの地域に合う雨温図、特色、農産物を選んで、表を完成させましょう。

	A (日本海側)	B (中央高地)	C (太平洋側)
雨温図	①	①	①
特色	②	②	②
農産物	③	③	③
		④	④

《雨温図》



《特色》

- ㉞ 黒潮のえいきょうで、冬でもあたたかい気候を生かしたくだもの栽培がさかん。
- ㉟ 高原が広がり、夏はすずしい気候を生かした高原野菜やくだもの栽培がさかん。
- ㊱ 雪が多い冬には農作業ができない。春から秋にその雪解け水を使った水田が広がる。

《農産物》

りんご 米 茶 ぶどう みかん



次の地図を見て、あとの問いに答えましょう。



(1) バスで名古屋市(東海地方)から、金沢市(北陸地方)に行きます。何県から何県まで行きますか。

①名古屋市 () 県

②金沢市 () 県

(2) 東海地方には、この他に何県がありますか。右の農産物を見て書きましょう。

() 県



お茶



みかん

(3) 北陸地方には、この他に何県がありますか。次の農産物を見て書きましょう。



越前ガニ

() 県



ホタルイカ

() 県



コシヒカリ

() 県

(4) この2つの地方を分ける「日本ルプス」といわれる山脈を書きましよう。

㉗ () 山脈 ㉘ () 山脈

㉙ () 山脈

(5) 日本アルプスをふくむ中央高地は、くだもの栽培がさかんなところでは。

① 次のくだものは、何県でつくられていますか。



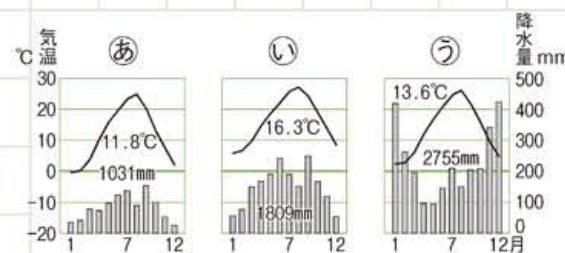
() 県



甲府盆地 () 県

② この地方を表す雨温図を㉚~㉜から選びましよう。

()



(6) これらの山脈から流れ出た川と平野の名前を書きましよう。

㉚ () 川 () 平野 [米どころ]

㉜ () 川 () 平野

(7) バスで、と中に通る世界遺産の白川郷は、何県にありますか。

() 県



白川郷