


あまりのあるわり算 ⑥

名前

☆ くりが22こあります。1人に6こずつあげます。何人にあげられますか。




		3
6	2	2
	1	8
		4

あまりの4こでは1人分に足りません

式 $22 \div 6 = \square$ あまり \square
 くりの数 いくつずつ 何人

答え 人

① いちょうのはが32まいあります。1人に7まいずつわたします。何人にわたせますか。



7	3	2

あまりの4まいでは1人分に足りません

式 $32 \div 7 = \square$ あまり \square
 いちょうのはの数 いくつずつ 何人

答え 人

② ピーマンが62こあります。1まいのふくろに9こずつ入れます。ふくろは何まいできますか。



	6	2

式 $62 \div \square = \square$ あまり \square
 ピーマンの数 いくつずつ 何まい

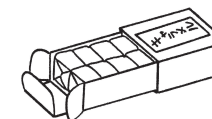
答え まい

③ 長さ57cmのリボンがあります。8cmずつ切っていくと、8cmのリボンが何本切りとれますか。

式 $\square \div \square = \square$ あまり \square
 リボンの長さ いくつずつ 何本

答え 本

④ 53このキャラメルを6こずつ箱につめます。何箱できますか。



式 $\square \div \square = \square$ あまり \square
 キャラメルの数 いくつずつ 何箱

答え 箱