



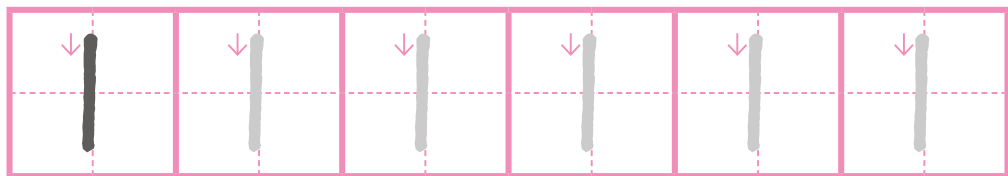
# 5までの かず

① えを かぞえて ○を 1こ ぬりましょう。

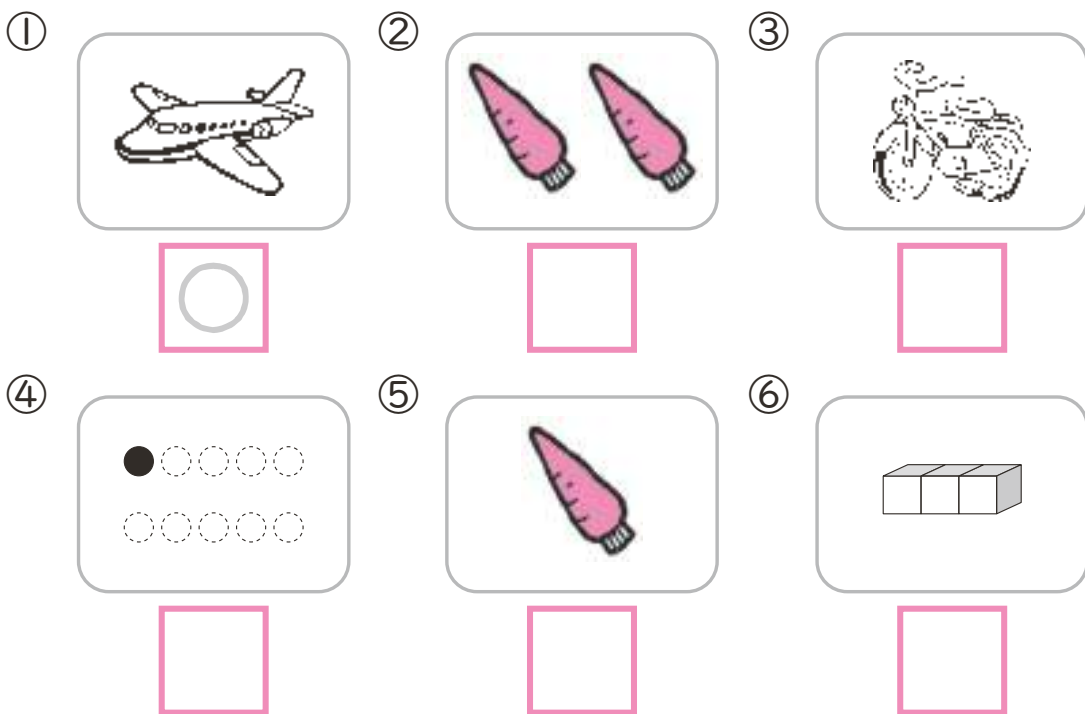


② かきましよう。

いち



③ 1を みつけて ○を つけましよう。



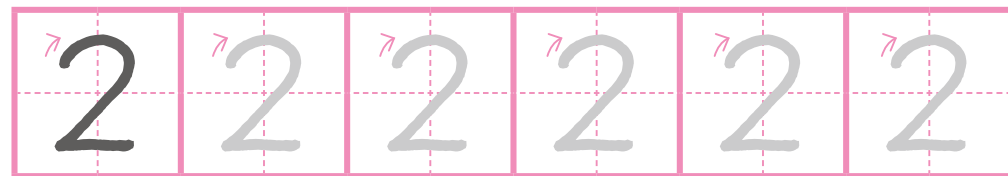
# 5までの かず

① えを かぞえて ○を 2こ ぬりましょう。

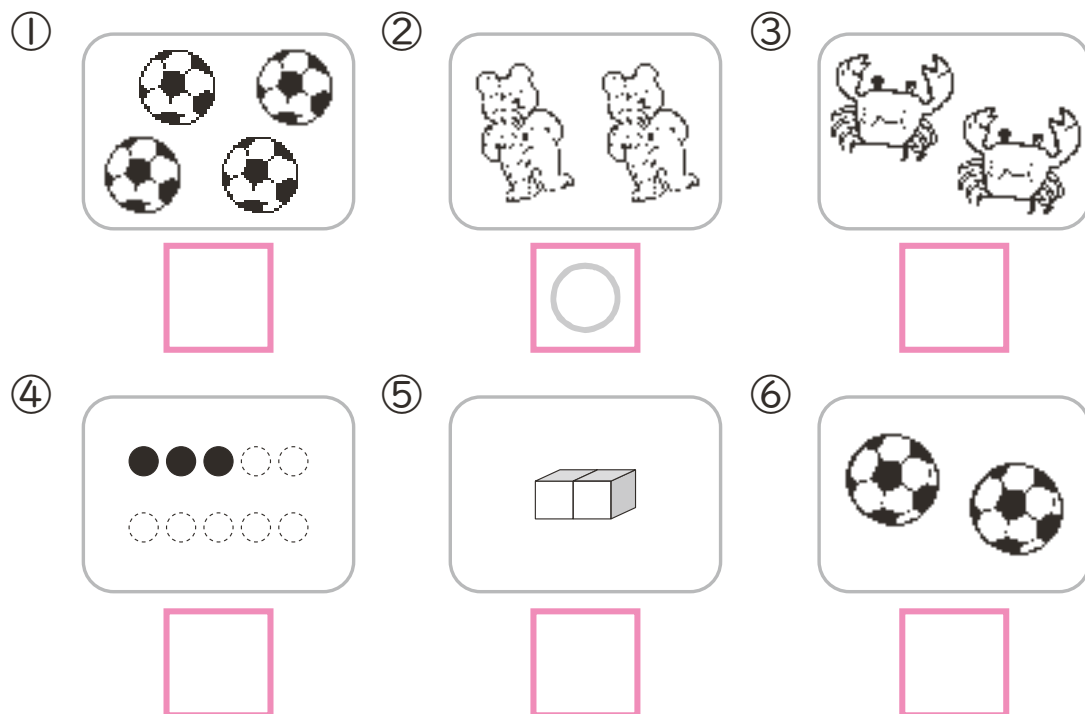


② かきましよう。

に




③ 2を みつけて ○を つけましよう。



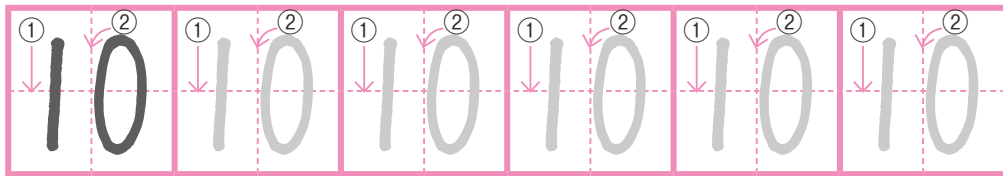
# 10までの かず

① えを かぞえて ○を 10こ ぬりましょう。







② かきましょう。

じゅう

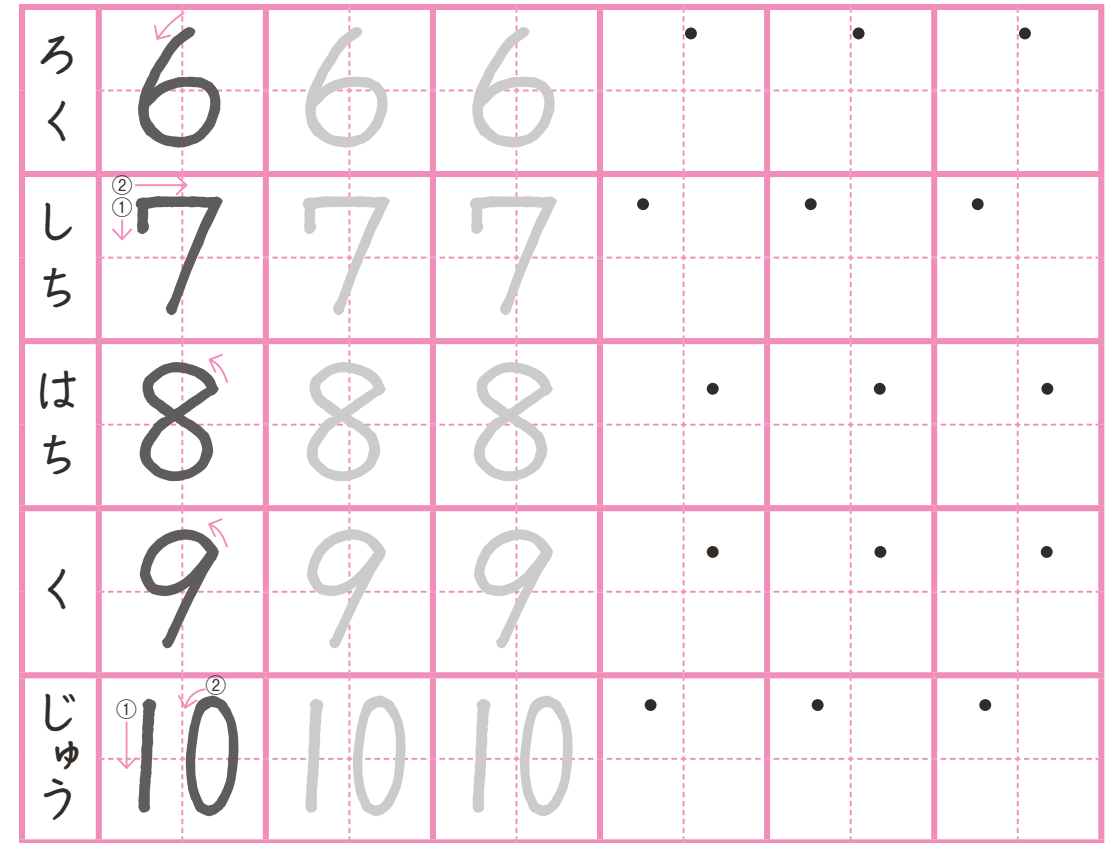


③ 10を みつけて ○を つけましょう。




# 10までの かず

① ていねいに れんしゅうしましょう。



② いくつですか。□に かずを かきましょう。



10までの たしざん

50  
てん

① つぎの けいさんを しましょう。 (1もん6てん/30てん)

①  $7 + 2 =$                       ②  $1 + 8 =$

③  $9 + 0 =$                       ④  $6 + 4 =$

⑤  $3 + 5 =$

② あかい いろがみが 5まい、あおい いろがみが 2まい あります。あわせて なんまいですか。

(10てん)

しき

こたえ

③ こうえんに こどもが 4にん あそんで いました。3にん きました。あわせて なんにん になりましたか。

(10てん)

しき

こたえ

10までの たしざん

50  
てん

① つぎの けいさんを しましょう。 (1もん6てん/30てん)

①  $2 + 4 =$                       ②  $0 + 7 =$

③  $5 + 5 =$                       ④  $8 + 1 =$

⑤  $6 + 3 =$

② いちごを わたしが 4こ、いもうとが 6こ たべました。あわせて なんこ たべましたか。

(10てん)

しき

こたえ

③ バスに 5にん のっています。4にん のって きました。バスには なんにん のっていますか。

(10てん)

しき

こたえ