


ひょうと グラフ ①  
ひょうに する

🍎 どうぶつの <sup>かず</sup>数を ひょうに かきましょう。

どうぶつ	うさぎ	うま	ぞう	ひつじ	キリン
数(ひき)					



ひょうと グラフ ②  
グラフに あらわす

① ひだりの ひょうの どうぶつの 数を見て、  
グラフに ○で あらわしましょう。

どうぶつの 数

う さ ぎ	う ま	ぞ う	ひ つ じ	キ リ ン




② グラフを見て <sup>こた</sup>答えましょう。

① いちばん <sup>おお</sup>多い どうぶつは <sup>なん</sup>何ですか。  
( )


② いちばん <sup>すく</sup>少ない どうぶつは 何ですか。  
( )

時こくと 時間 ①  
おぼえて いるかな


① 時計を 読みましょう。



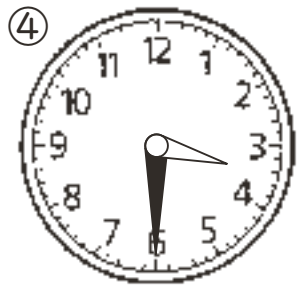
( )



( )




( )



( )



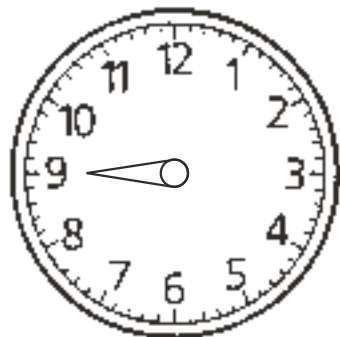
( )



( )

② 時計の はりを かきましょう。

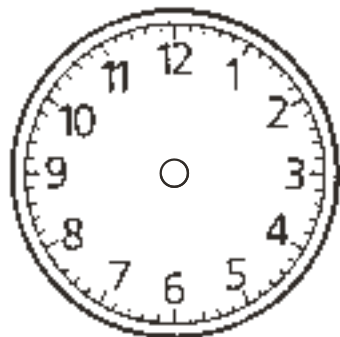
① 9時



② 1時半

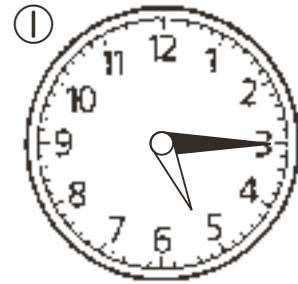


③ 11時




時こくと 時間 ②  
おぼえて いるかな

① 時計を 読みましょう。



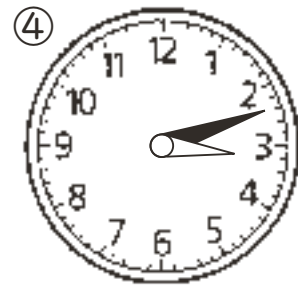
( )



( )




( )



( )



( )




( )

② 時計の はりを かきましょう。

① 4時52分



② 2時6分



③ 8時27分



# 時間の もんだい

🍎 時こくと 時間について 考えましょう。

ひるやす 昼休み

きゅう食がおわる 時こく 1時10分

そうじがはじまる 時こく 1時30分

時間

とけい 時計の長い はりが1メモリすすむ 時間を1分間と います。1分とも います。

1分間

0 5 10 15 20(分)

① 昼休みの 時間は 何分間ですか。上の 図を 見て かきましょう。

1時10分から 1時30分までの 時間 ( 分間 )

② そうじの 時間は、何分間ですか。


そうじが はじまる 時こく      そうじが おわる 時こく

( 分間 )


# 時間の もんだい

🍎 つぎの 時間は、何分間ですか。

① 1時間目の はじまり



1時間目の おわり




• 1時間目の べん強の 時間 ( 分間 )

② 1時間目の おわり



2時間目の はじまり




• 休み時間 ( 分間 )

③ 2時間目の おわり



3時間目の はじまり



• 休み時間 ( 分間 )