

かけ算九九 ①

おぼえているかな

① つぎの計算をしましょう。

①  $5 \times 7 =$

②  $3 \times 8 =$

③  $4 \times 8 =$

④  $2 \times 5 =$

⑤  $1 \times 6 =$

⑥  $4 \times 7 =$

⑦  $3 \times 6 =$

⑧  $2 \times 9 =$

⑨  $5 \times 4 =$

⑩  $3 \times 7 =$

⑪  $4 \times 6 =$


⑫  $5 \times 9 =$

② 1人に3まいずつ色紙を配ります。6人では色紙は何まいいりますか。

しき式

答え \_\_\_\_\_

③ かけ算で●の数を数えましょう。



式

答え \_\_\_\_\_

かけ算九九 ②

おぼえているかな

① 次の計算をしましょう。

①  $6 \times 7 =$

②  $7 \times 9 =$

③  $8 \times 8 =$

④  $9 \times 7 =$

⑤  $7 \times 8 =$

⑥  $6 \times 9 =$

⑦  $8 \times 7 =$

⑧  $6 \times 8 =$

⑨  $9 \times 8 =$

⑩  $8 \times 9 =$

⑪  $9 \times 9 =$

⑫  $7 \times 7 =$

② 4週間は何日ですか。

式

答え \_\_\_\_\_

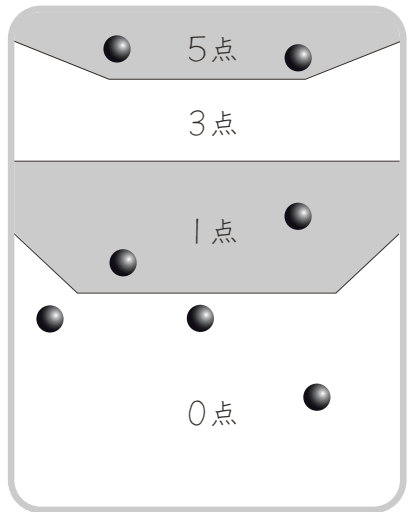
③ 5人に8こずつあめを配ります。あめは全部で何こいりますか。

式

答え \_\_\_\_\_

かけ算九九 ③  
0 のかけ算

🍎 おはじきゲームをしました。



① おはじきが入った数を表にかき  
ましょう。

5点	3点	1点	0点

② とく点を調べましょう。

点数 × 入った数 = とく点

ア  $5 \times \square = \square$

イ  $1 \times \square = \square$

③ 3点のところは、おはじきがないので0点です。  
とく点をもとめる式をかきましょう。

点数 入った数 とく点

$$3 \times \square = \square$$

④ 0点のところは、おはじきが入っても0点です。  
とく点をもとめる式をかきましょう。

点数 入った数 とく点

$$\square 0 \times \square = \square$$

かけ算九九 ④  
0 のかけ算

① 次の計算をしましょう。

①  $1 \times 0 =$

②  $2 \times 0 =$

③  $3 \times 0 =$

④  $5 \times 0 =$

⑤  $7 \times 0 =$

⑥  $9 \times 0 =$



どんな数に0をかけても、  
答えは0になります。

② 次の計算をしましょう。

①  $0 \times 1 =$

②  $0 \times 2 =$

③  $0 \times 5 =$

④  $0 \times 8 =$

⑤  $0 \times 9 =$

⑥  $0 \times 0 =$



0にどんな数をかけても、  
答えは0になります。

わり算（あまりなし）⑤  
どきどきわり算

- ① 12このくりを、1人に4こずつ分けます。何人に分けられますか。

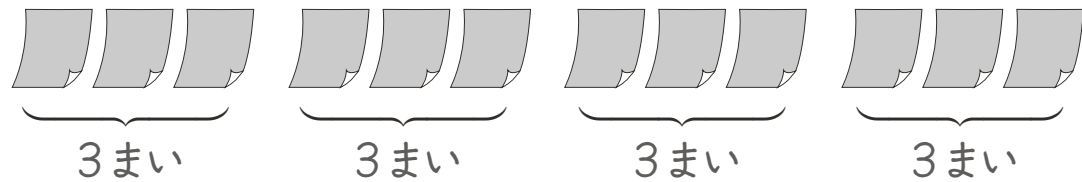


式  $12 \div 4 = 3$

答え 3人

全部をいくつかずつに分けると、いくつか分できるかという計算もわり算です。

- ② 12まいの色紙を、1人に3まいずつあげます。何人にあげられますか。



式

答え                     

わり算（あまりなし）⑥  
どきどきわり算

- ① クッキーを20まいやきました。1つの箱に4まいずつ入れます。箱は何こいりますか。



式

答え                     

- ② 30このお手玉を、5こずつ箱に入れます。箱は何こいりますか。

式

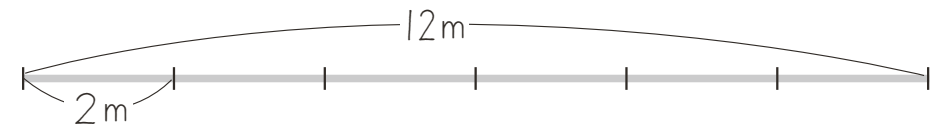
答え                     

- ③ チョコレートが15こあります。1人に3こずつあげると、何人にあげられますか。

式

答え                     

- ④ 12mのロープを2mずつ切ると、何本のロープができますか。



式

答え