



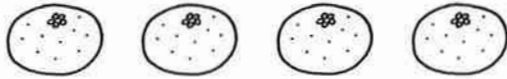
# どちらがおおい (1)

月 日

\* どちらが おおいですか。おおい ほうに ○をつけましょう。

①

( )



( )



②

( )



( )

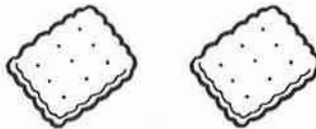


③

( )



( )



\* どちらが おおいですか。おおい ほうに ○をつけましょう。

①

( )




( )



②

( )



( )



## くりあがりのあるたしざん (3)

1  $7+5$ の けいさんを しましょう。

$$7 + 5 = 12$$

$7$ と  $3$ で  $10$ だから

$5$ を  $3$ と  $2$ にわける

$$7 \text{ と } 3 \text{ で } 10$$

$$10 \text{ と } 2 \text{ で } 12$$

2 つぎの けいさんを しましょう。

①  $7 + 4 =$

②  $7 + 6 =$

③  $7 + 7 =$

④  $7 + 8 =$

⑤  $7 + 9 =$

⑥  $7 + 5 =$

- 1  $5+9$ の けいさんを しましょう。

$$5+9=14$$

9と 1で 10だから

5を  と  にわける

と  で

10と 4で

- 2 つぎの けいさんを しましょう。

①  $4+9=$

②  $7+9=$

③  $5+8=$

④  $4+8=$

⑤  $6+7=$

⑥  $6+9=$