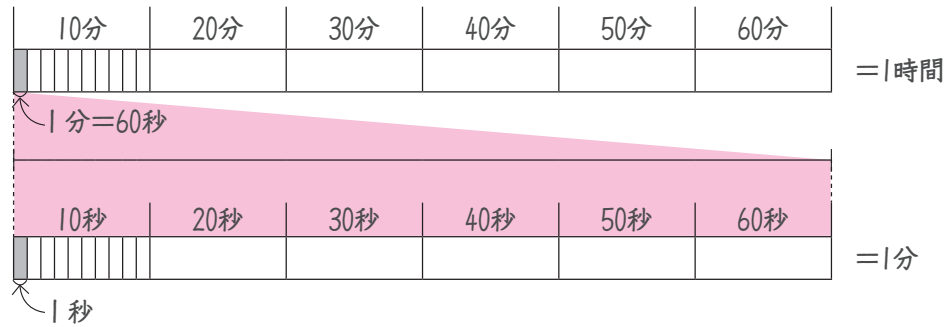


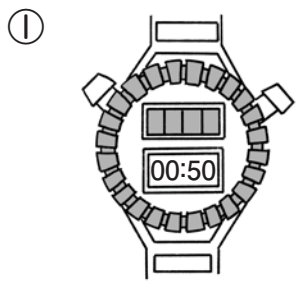
# 時計 ① 時こくと時間

## 時間のたんのしくみ

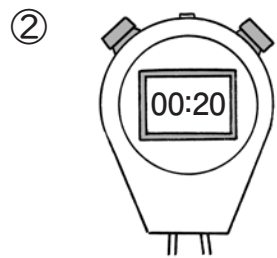


分より短い時間のたんいを**秒**といいます。  
60秒=1分です。

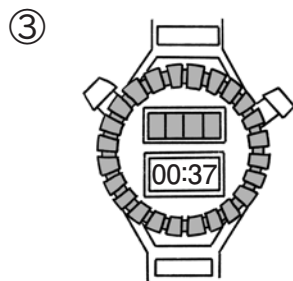
次のストップウォッチの時間を書きましょう。



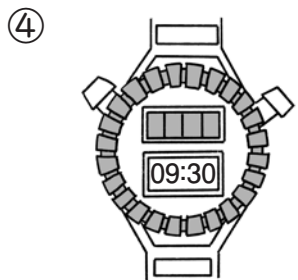
秒



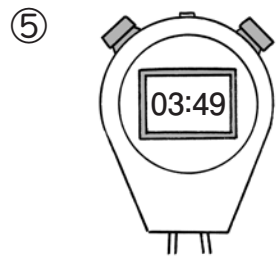
秒



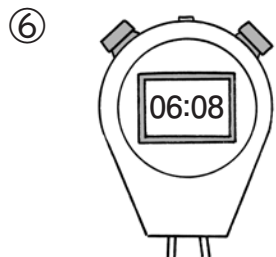
秒



分 秒



分 秒



分 秒

# 時計 ② 時こくと時間

① 次の表に、くみさんたちが運動場を1しゅうするのにかかった時間をまとめています。

名前	〇分〇秒	〇秒
くみ	1分24秒	
けいすけ		96秒
あやみ	1分31秒	

- ① 表のあいているマスに、時間のたんいをそろえて、あてはまる時間を書きましょう。
- ② いちばん速かったのはだれですか。  
( )がいちばん速い

② □にあてはまる数を書きましょう。

- ① 1分10秒 = □ 秒
- ② 100秒 = □ 分 □ 秒
- ③ 3分 = □ 秒
- ④ 150秒 = □ 分 □ 秒

## あまりのないわり算

 次の計算をしましょう。

①  $81 \div 9 =$

⑪  $8 \div 2 =$

②  $16 \div 2 =$

⑫  $12 \div 3 =$

③  $20 \div 4 =$

⑬  $63 \div 7 =$

④  $54 \div 6 =$

⑭  $12 \div 2 =$

⑤  $8 \div 1 =$

⑮  $27 \div 3 =$

⑥  $10 \div 2 =$

⑯  $36 \div 6 =$

⑦  $9 \div 3 =$

⑰  $9 \div 1 =$

⑧  $40 \div 5 =$

⑱  $16 \div 4 =$


⑨  $56 \div 7 =$

⑲  $6 \div 2 =$

⑩  $6 \div 1 =$

⑳  $24 \div 3 =$

## あまりのないわり算

 次の計算をしましょう。

①  $32 \div 4 =$

⑪  $36 \div 4 =$

②  $18 \div 2 =$

⑫  $42 \div 6 =$

③  $48 \div 6 =$

⑬  $72 \div 8 =$

④  $21 \div 3 =$

⑭  $14 \div 2 =$

⑤  $64 \div 8 =$

⑮  $4 \div 1 =$

⑥  $30 \div 5 =$

⑯  $25 \div 5 =$

⑦  $49 \div 7 =$

⑰  $28 \div 4 =$

⑧  $45 \div 5 =$

⑱  $18 \div 3 =$

⑨  $24 \div 4 =$

⑲  $4 \div 2 =$

⑩  $35 \div 5 =$

⑳  $15 \div 3 =$

ひき算 ①

3けたのひき算 (くり下がり1回)

- ① スーパーに、りんごが386こありました。  
そのうち、293こ売れました。  
りんごは何ここのこっていますか。

ア <sup>くらい</sup> 位をそろえて書く

イ 6 - 3 = 3

ウ 百の位から1くり下げて、  
180 - 90 = 90

エ 200 - 200 = 0



ひっさん  
〈筆算〉

	3	8	6
-	2	9	3

しき式 386 - 293

答え                      こ

- ② 3年2組には、色紙が454まいありました。  
そのうち、239まい使いました。  
何まいのこっていますか。

式

〈筆算〉

-			

答え                      まい

ひき算 ②

3けたのひき算 (くり下がり1回)

- ① <sup>ゆうえんち</sup> 遊園地で、760人が<sup>あそ</sup>遊んでいました。夜になると380人が  
帰りました。今何人のこっていますか。

しき式

ひっさん  
〈筆算〉

-			

答え                     

- ② なつみさんの学校の<sup>ぜんこう</sup>全校じどうの数は722人です。  
そのうち4年・5年・6年のじどうの合計は309人です。  
1年・2年・3年のじどうの合計は何人ですか。

式

〈筆算〉

-			

答え                     



かけ算 ①  
かけ算のしくみ

ひっさん しかた  
かけ算の筆算の仕方

21×4を位をそろえて書き、一の位からじゅんに計算していきましょう。

	2	1
×		4
	8	4

- ㊦ 1×4=4 → 一の位に4
- ㊩ 2×4=8 → 十の位に8
- ㊫ 答えは84



🍎 1本12円のえんぴつを3本買いました。  
全部で何円になりますか。

しき 式  ×  =

	1	2
×		3

※位をそろえて書きましょう。

- ㊦ 2×3=
- (3×2)
- ㊩ 1×3=
- (3×1)

かけ算の筆算では頭の中で九九をとなえよう。そのとき、2×3と1×3と計算するよりも、3×2と3×1と計算した方が、同じ九九のだんで考えられるよ。



答え  円

かけ算 ②  
かけ算のしくみ

① えんぴつ4ダースは何本ですか。(1ダース=12本)

しき 式

× =

ひっさん  
〈筆算〉

	1	2
×		4

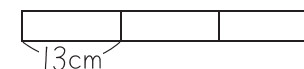
答え  本



- ㊦ 2×4=8 → 一の位 (4×2)
- ㊩ 1×4=4 → 十の位 (4×1)
- ㊫ 答えは48

② 13cmのテープ3本をつなげてならべると、何cmになりますか。

しき 式



〈筆算〉

×		

答え  cm

③ 次の計算をしましょう。

①

	1	2
×		2

②

	2	3
×		3

③

	4	2
×		2