

ひょうと グラフ ①

グラフの よみとり



ともだちと いっしょに クッキーを 食べました。
 グラフを 見て もんだいに 答えましょう。

• たべた クッキーの 数 •

あさひ	はると	ゆうと	ひかり	そうた

① ゆうとさんは、何こ 食べましたか。

()

② いちばん 多く 食べた 人は だれですか。

()

③ あさひさんは、ひかりさんより 何こ 多く 食べましたか。

()

④ みんなで 何この クッキーを 食べましたか。






()

ひょうと グラフ ②

グラフの よみとり

🍎 グラフを見て もんだいに 答えましょう。

• かつているペットと 人数 •

	○				
○	○				
○	○				
○	○	○			
○	○	○		○	
○	○	○	○	○	○
					そのほか

① いぬを かつている 人は、何人ですか。

()

② ねこを かつている 人は、ひよこを かつている 人より、何人 多いですか。

()

③ ペットを かつている 人は、ぜんぶで 何人ですか。

()

まとめ ①

ひょうと グラフ

50点



公園^{こうえん}に 来た^{きた} ミニどうぶつ園^{みに どうぶつえん}の どうぶつの 数^{かず}を グラフ^{ぐらふ}に しました。

どうぶつの 数

① 下の ひょうに どうぶつの 数^{かず}を 書きましよう。(□1つ2点 / 10点)

○				
○			○	
○			○	
○			○	
○	○		○	
○	○	○	○	
○	○	○	○	○
う	ひ	や	に	ろ
さ	つ		わ	
ぎ	じ	ぎ	と	り
			り	ば

どうぶつ	うさぎ	ひつじ	やぎ	にわとり	ろば
数					

② 上の ひょうの だいを 書きましよう。(1もん10点 / 10点)

()

③ いちばん たくさん いる どうぶつは 何^{なん}ですか。(1もん10点 / 10点)

()

④ 2番^{ばんめ}目に 多^{おお}い どうぶつは 何ですか。(1もん10点 / 10点)

()

⑤ いちばん 少^{すく}ない どうぶつは 何ですか。(1もん10点 / 10点)

()



ひょうと グラフ

50点



下の どうぶつの 数を しらべた ひょうを
見て もんだいに 答えましょう。

どうぶつの 数

どうぶつ	くま	うま	ぞう	ひつじ	きりん
数	8	5	4	3	1

く	う	ぞ	ひ	き
			つ	り
ま	ま	う	じ	ん

① どうぶつの 数を ○を
つかって 右の グラフに
書きましょう。
(ひょう15点/15点)

② くまは ぞうより
何頭 多いですか。
(1もん10点/10点)

()

③ きりんは うまより 何頭 少ないですか。
(1もん10点/10点)

()

④ どうぶつは ぜんぶで 何頭ですか。
(1もん15点/15点)

()

マス計算 ⑦

ひき算100マス



時間を 計って マス計算を しましょう。

(前にも 時間を 計って いるときは その
ときの 記ろくと くらべましょう)

下に すすむと 上のだんの 数が 見づらいので
まん中にも 上のだんの 数を入れています。

—	14	17	12	18	10	15	11	19	13	16	—
6											6
5											5
8											8
0											0
4											4
—	14	17	12	18	10	15	11	19	13	16	—
7											7
1											1
3											3
9											9
2											2

(月 日 ぶん びょう秒)

マス計算 ⑧

ひき算100マス



時間を計ってマス計算をしましょう。

(前にも時間を計っているときはそのときの記ろくとくらべましょう)

下にすすむと上のだんの数が見づらいのでまん中にも上のだんの数を入れてあります。

—	10	15	19	13	11	16	18	12	17	14	—
6											6
0											0
9											9
5											5
4											4
—	10	15	19	13	11	16	18	12	17	14	—
8											8
3											3
7											7
1											1
2											2

(月 日 ぶん 秒)