



がつ にち なまえ

かずと すうじ ①

# 1から 10の れんしゅう

① ぶんを よんで ○を 1こ ぬりましょう。

ランドセル



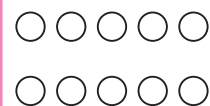
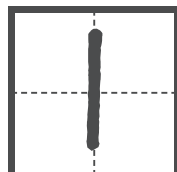
が

いっ

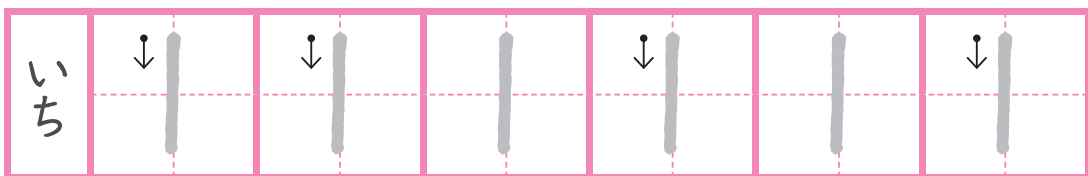


こで

いち



② 1を となえながら なぞりましょう。



③ ぶんを よんで ○を 2こ ぬりましょう。

にんじん



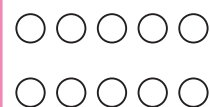

が

に



こで

に



④ 2を となえながら なぞりましょう。




がつ にち なまえ

かずと すうじ ②

# 1から 10の れんしゅう

① ぶんを よんで ○を 3こ ぬりましょう。

あめ



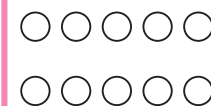
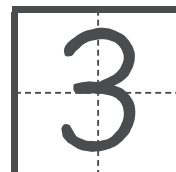
が

さん

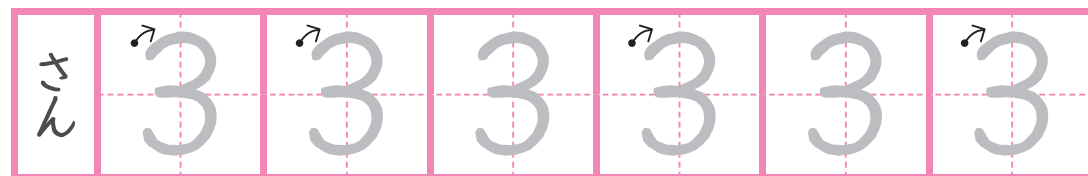


こで

さん




② 3を となえながら なぞりましょう。



③ ぶんを よんで ○を 4こ ぬりましょう。

ぼおる



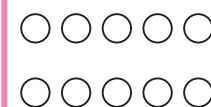
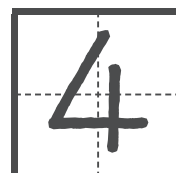
が

よん

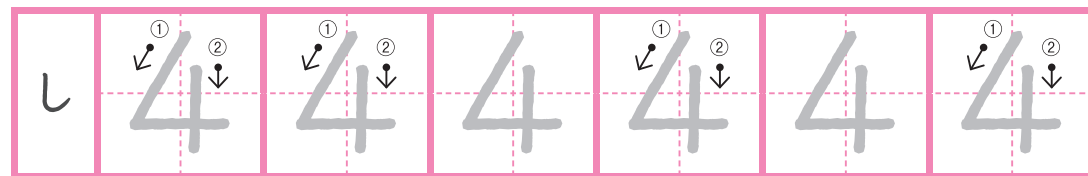


こで

し(よん)



④ 4を となえながら なぞりましょう。



# 1から 10の れんしゅう

① ぶんを よんで ○を 5こ ぬりましょう。

かん が ご 5 ほんで **5** ○○○○○

② 5を となえながら なぞりましょう。

③ えの かずを かぞえましょう。  
えと すうじを せんで つなぎましょう。

1 5 3 4 2

# 1から 10の れんしゅう

① 1から 5の れんしゅうを しましょう。

いち	1	1	1	1	1
に	2	2	2	2	2
さん	3	3	3	3	3
し	4	4	4	4	4
ご	5	5	5	5	5


② えの かずを かぞえましょう。  
その かずを □に かきましょう。

① ② ③ ④

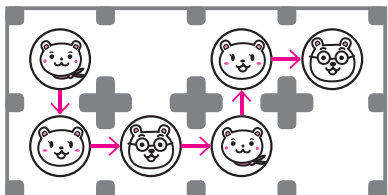
さんすうゲーム

がつ にち なまえ

くまの じゅんに すすもう!

スタートから  の じゅんに なっている ところを すすんで ゴールまで いきましょう。 おなじ みちは とおれませぬ。

れい



スタート

ゴール

さんすうゲーム

がつ にち なまえ

100マス かたち みつけ!

ひょうの なかから ひだりうえの <sup>ま</sup> <sup>あ</sup> <sup>く</sup> マークと おなじ マークを さがして ○を つけましょう。 ぜんぶ みつけられたら <sup>た</sup> <sup>い</sup> <sup>む</sup> タイムを かきましょう。


×

	△	□	×	○	☆	×	□	△	×	×
	○	□	△	☆	△	□	×	○	☆	△
	△	☆	△	□	○	☆	○	△	□	□
	□	×	○	△	□	×	△	☆	□	☆
	□	☆	□	△	○	☆	×	○	□	△
	□	□	×	☆	☆	○	□	□	×	○
	☆	○	☆	□	△	☆	○	×	□	△
	○	□	×	△	×	○	☆	△	×	☆
	×	□	△	○	□	×	×	△	□	□
	△	○	×	△	☆	□	○	×	☆	□


タイム ふん びょう

ひきざん ①  
のこりは いくつ

① とりが 5わ います。2わ とんで いくと  
のこりは なんわですか。



しき  $\boxed{5}$  わ  $\boxed{2}$  わ  $\rightarrow$  のこりは  $\boxed{3}$  わ



しき  $4 - 1 = 3$  は

このような けいさんを ひきざんと いいます。

② みかんが 3こ あります。  
1こ たべると のこりは なんこですか。



しき  $\boxed{3} - \boxed{\quad} = \boxed{\quad}$

こたえ

ひきざん ②  
のこりは いくつ

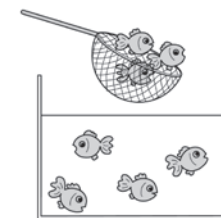
① えんぴつが 6ぽん あります。  
2ぽん とりました。  
のこりは なんぽんですか。



しき  $\boxed{\quad} - \boxed{\quad} = \boxed{\quad}$

こたえ

② きんぎょが 7ひき います。  
3ひき すくいました。  
のこりは なんびきですか。



しき  $\boxed{\quad} - \boxed{\quad} = \boxed{\quad}$

こたえ

③ くるまが 4だい とまって います。  
2だい でて きました。  
のこりは なんだいですか。



しき  $\boxed{\quad} - \boxed{\quad} = \boxed{\quad}$

こたえ