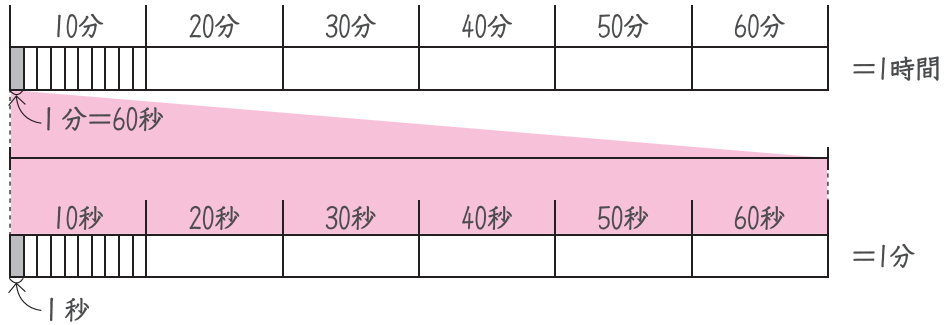


時計 ①

時こくと時間

時間のたんのしくみ



分より短い時間のたんいを秒びょうとといいます。  
60秒=1分です。



つぎ 次のストップウォッチの時間を書きましょう。

①



秒

②



秒

③



秒

④



分 秒

⑤



分 秒

⑥



分 秒

かけ算のふく習 ③  
0と10のかけ算

① ともひろさんがおはじき入れゲームをしました。  
けっかを表にまとめましょう。

入ったところ (点)	10	5	0	合計
入った数 (こ)	2	6	2	10
とく点 (点)				

① 10点  $10 \times \square = \square$

② 5点  $5 \times \square = \square$

③ 0点  $0 \times \square = \square$

④ 合計  $\square + 30 + \square = \square$

10×2は、十の位の1と2をかけて20。  
一の位の0と2をかけて0。  
答えは20だよ。

② まりあさんもおはじき入れゲームをしました。  
けっかを表にまとめましょう。

入ったところ (点)	10	5	0	合計
入った数 (こ)	4	2	4	10
とく点 (点)				

合計  $\square + 10 + \square = \square$

まとめ ③  
わり算

50  
点

★  
① 次のわり算の答えを見つけるには、何のだんの九九を  
つか  
使えばいいですか。 (1問3点/6点)

①  $32 \div 4$

(          のだん)

②  $8 \div 2$

(          のだん)

★★  
② 次の計算をしましょう。 (1問4点/24点)

①  $24 \div 4 =$

④  $63 \div 7 =$

②  $14 \div 2 =$

⑤  $27 \div 9 =$

③  $64 \div 8 =$

⑥  $20 \div 5 =$

★★★  
③ 色紙が20まいあります。4人に同じ数ずつ<sup>くば</sup>配ると、  
1人分は何まいになりますか。 (式5点、答え5点/10点)

しき  
式

答え

---

★★★  
④ 花が56本あります。8本ずつたばにすると、花たばは  
いくつできますか。 (式5点、答え5点/10点)

式

答え

---

まとめ ④  
わり算

50  
点

① つぎの計算をしましょう。

(1問5点/30点)

①  $30 \div 5 =$

④  $48 \div 6 =$

②  $49 \div 7 =$

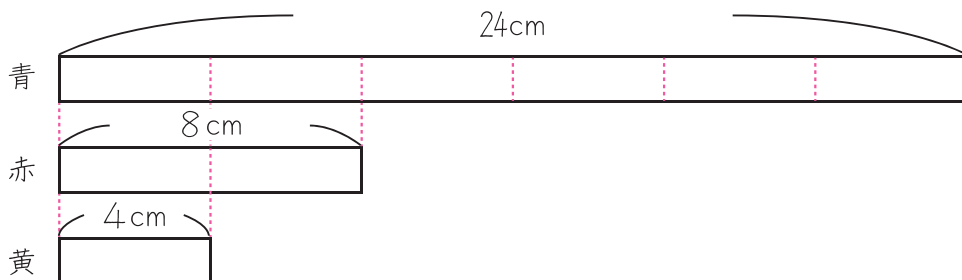
⑤  $7 \div 1 =$

③  $0 \div 6 =$

⑥  $81 \div 9 =$

② 青、赤、黄のテープがあります。

青のテープは24cm、赤のテープは8cmで、  
黄のテープは4cmです。



① 青のテープは、赤のテープの何倍なんばいですか。

(式5点、答え5点/10点)

しき  
式

答え

② 青のテープは、黄のテープの何倍ですか。

(式5点、答え5点/10点)

式

答え


## 九九線つなぎ



スタートからゴールまで、3のだんの九九のじゅんに  
線でむすびましょう。

何の絵が出てきますか。

スタート/ゴール




( ) の絵

## 九九線つなぎ



スタートからゴールまで、9のだんの九九のじゅんに  
線でむすびましょう。

何の絵が出てきますか。



( ) の絵