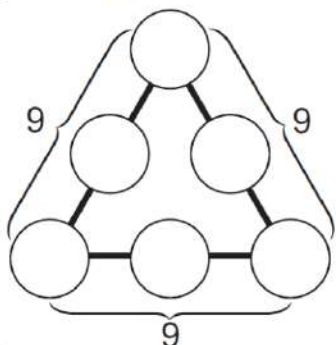
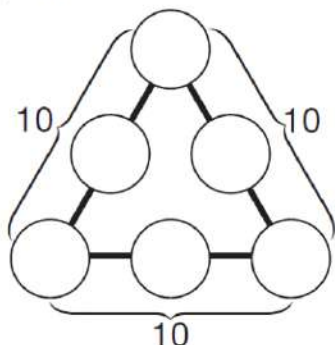


✿ それぞれの辺の数の和が同じになるようにしましょう。○の中に書く数字は、1、2、3、4、5、6です。

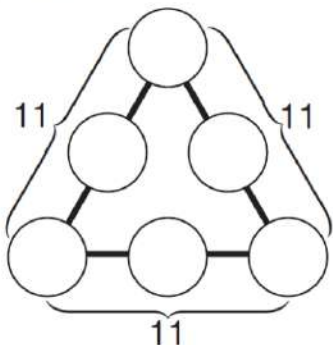
① 辺の数の和は、9です。



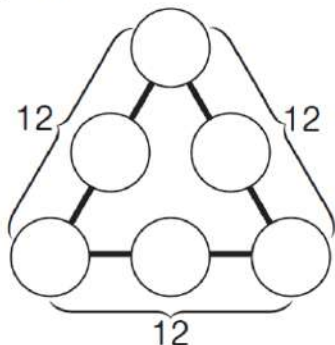
② 和は10



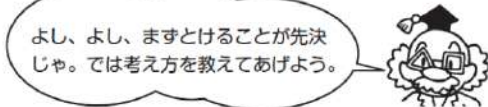
③ 和は11



④ 和は12



ぼく、当てすっぽうに数を入れていただけど…



よし、よし、まずとけることが先決じゃ。では考え方を教えてあげよう。

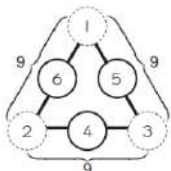
①の場合

$$1 + 2 + 3 + 4 + 5 + 6 = 21 \dots\dots①$$

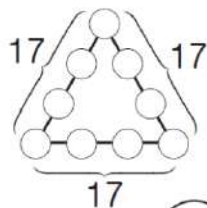
$$9 \times 3 = 27 \dots\dots②$$

1 から 6 まで入れる数を全部たしても 21 なのに、①のように数を入れて、辺どうしたすと、 $9 + 9 + 9 = 27$ になる。これは○を 2 回ずつたしているからだ。だから○には $27 - 21 = 6$ で、○を 3 つたして 6 になる数字が入る。

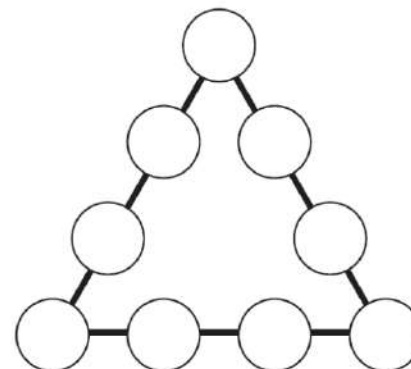
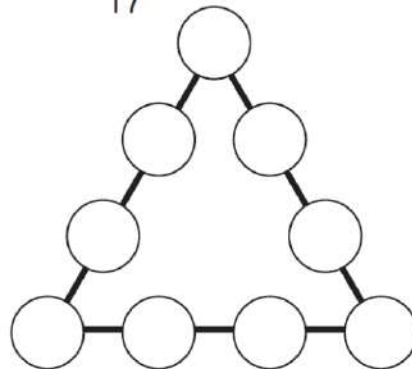
3 つの角の数字が決まればあとはできる！



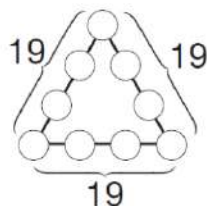
チャレンジ！ ① 和は17



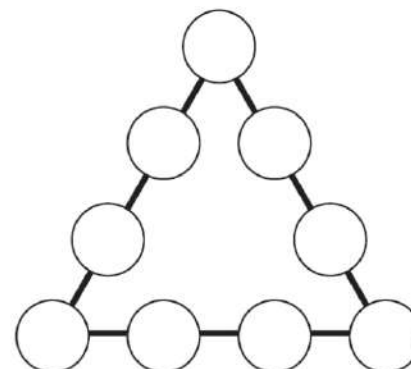
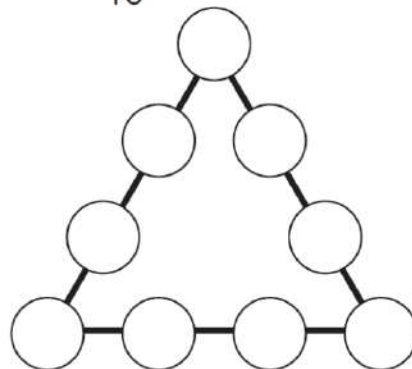
入る数字は 1～9だよ。



チャレンジ！ ② 和は19



早く終わったら、まだ答えがないか、考えてみよう。



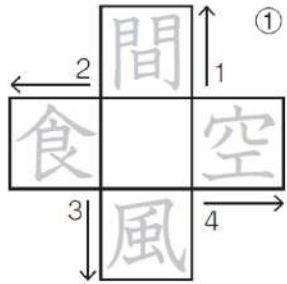


かんじ 漢字のクロス ①

国語・漢字

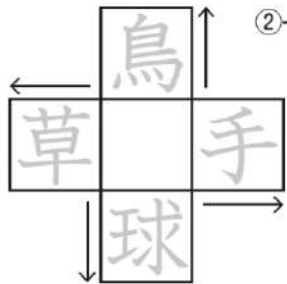
3年～
20分

名前

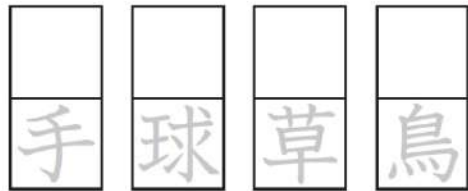


①②③④の□に入る漢字


野 用 夜 来



② ②番のじゅく語を書きます。



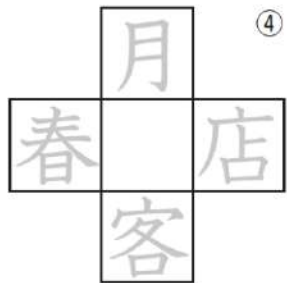
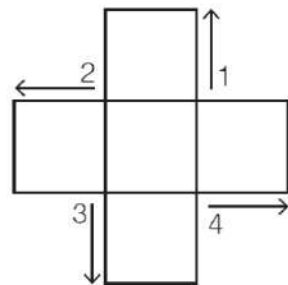
③



読む方向に
気をつけるのじゃ。



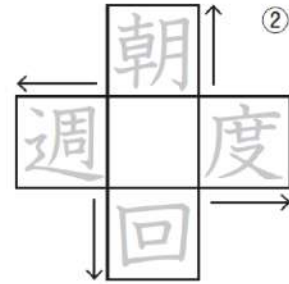
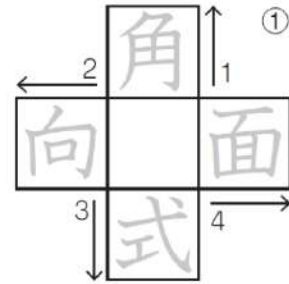
作ってみよう。



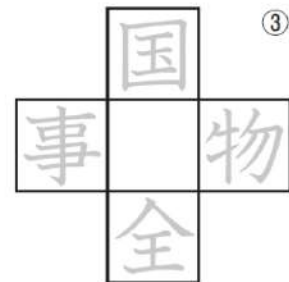
④



5.0.N.C.A.S.14.01.1

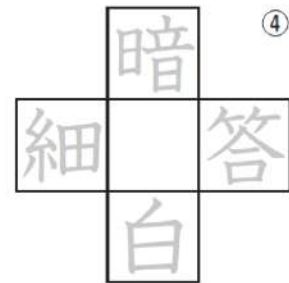


②



③

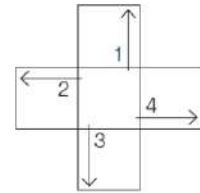
③番のじゅく語を書きます。



④



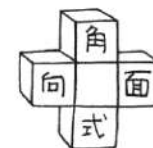
正か、



①②③④の□に入る漢字

明 方 万 毎

真ん中の□に、漢字を一字書きます。二字じゅく語が四つできます。
↓の方へ読むじゅく語です。
うすい文字は、なぞり書きをします。



真ん中の□に、漢字を一字書きます。二字じゅく語が四つできます。