

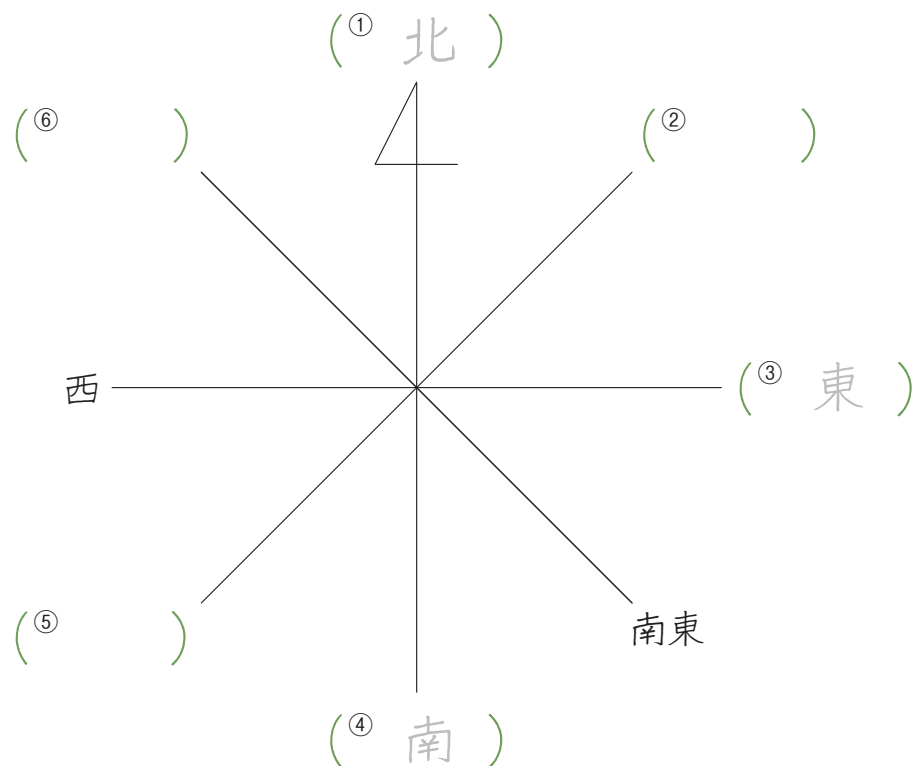
1 地図の見方 (1)



ねらい

地図を読むときの基本的な知識 (方位、地図記号) を覚えましょう。

1 次の図は、方位を表す記号です。あとの問いの答えを から選んで書きましょう。



2 次は、地図に使われている記号です。何を表していますか。 から選んで書きましょう。

①	文		②	⊕	病院
③	ㄣ	消ぼうしょ	④	◎	
⑤	⊗		⑥	⊖	
⑦	㏇	博物館	⑧	卍	
⑨	卍		⑩	⊙	かじゅ園
⑪	≡	田	⑫	∨	

(1) このような方位の表し方を何といいますか。(八方位)

(2) ①～⑥の方位を書きましょう。

(3) 方位記号がないとき、地図の上は、どの方位ですか。

()

東 北 南 八方位 北西 北東 南西
(2回使うものもあります)

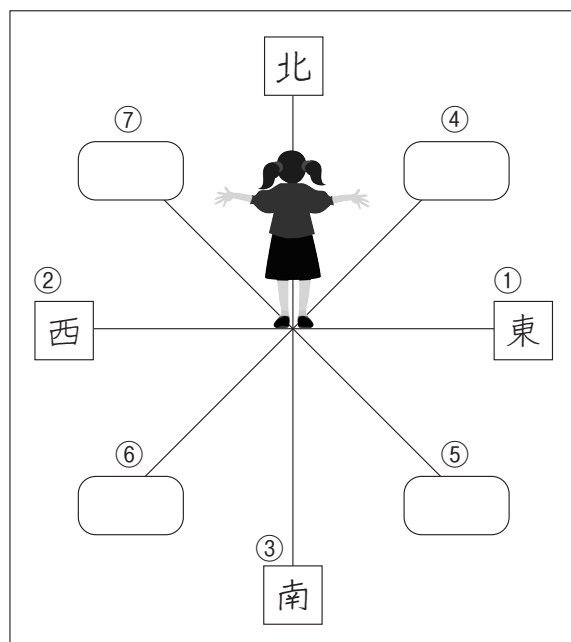
かじゅ園 けい察しょ 博物館 市役所
田 病院 消ぼうしょ 学校
ゆう便局 畑 神社 寺

1 地図の見方 (1)



- 1 図のように北に向かって立ちました。
 () にあてはまる言葉を から えらんで書きましょ
 う。

西	東	南	北
北西		北東	
南西		南東	



北を向いて立ったとき、右手は(①) ほういの方
 左手は(②)の方をしめします。

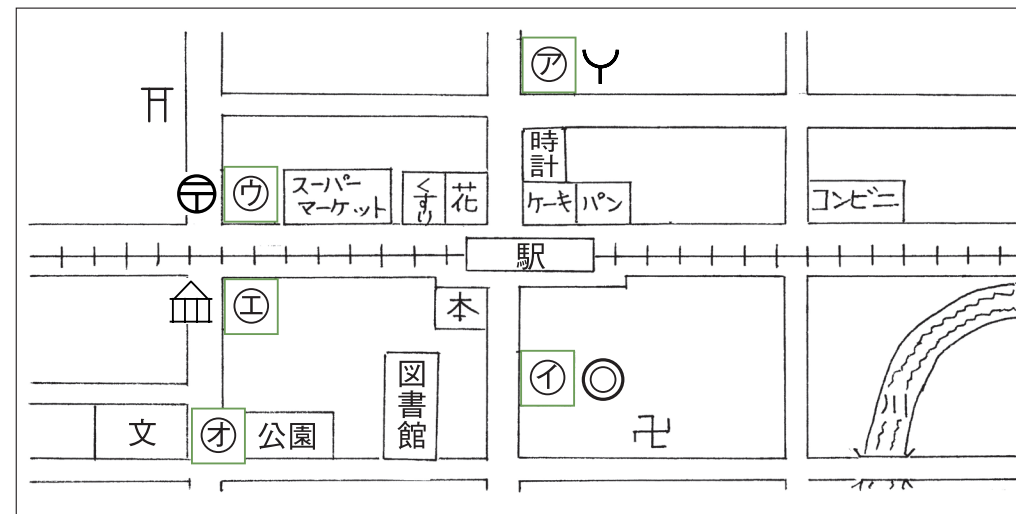
また、せなかは(③)を向きます。

④は(④)、⑤は(⑤)、
 ⑥は(⑥)、⑦は(⑦)の
 方位をしめします。

方位記号がない地図の場合、上が(⑧)を表し
 ています。

学習日 月 日 点/18点 名前

- 2 次の地図は、ある町の駅前のようなすを表したものです。



次の場所は、地図ア～オのどこを表していますか。話を聞いて () に答えましょう。また、地図記号を [] に書きましょ。

- ① スーパーマーケットのとなりにゆう便局があるよ。
- ② 博物館は、ゆう便局の南にあるよ。線路をこえてすぐだよ。
- ③ 市役所は、図書館の東にあるよ。
- ④ 駅の北には、消ぼうしょがあるんだ。
- ⑤ 学校は、公園の西にあるよ。

- ① ゆう便局 () []
- ② 博物館 () []
- ③ 市役所 () []
- ④ 消ぼうしょ () []
- ⑤ 学校 () []

2 地図の見方 (2)

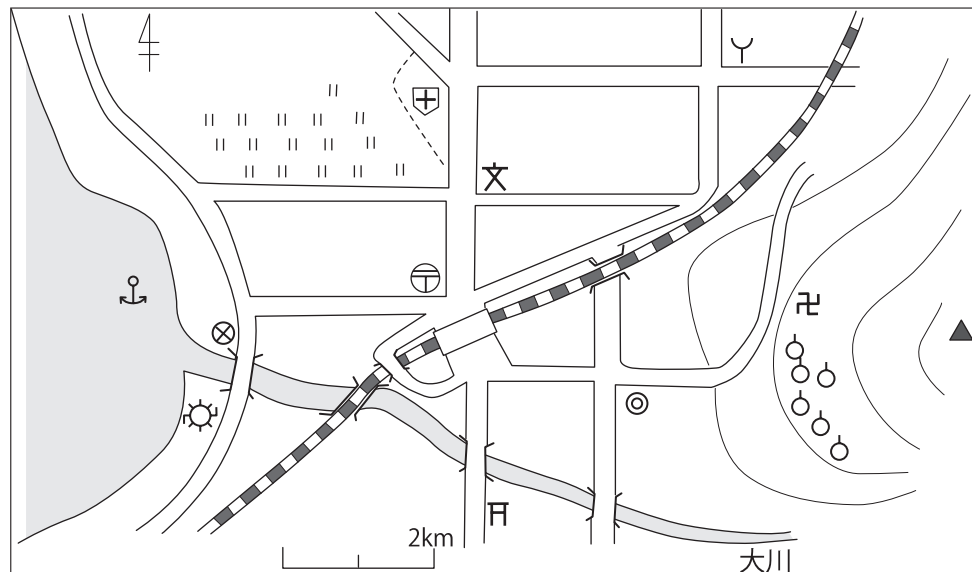


1 次の () にあてはまる言葉を から選んで書きましょう。

地図では、実さいのきょりをちぢめて表し、どのくらい
 (①) いるかを (②) といいます。

5万分の1の地図で1cmの長さは、実さい(③)
 cmで(④) mのきょりです。

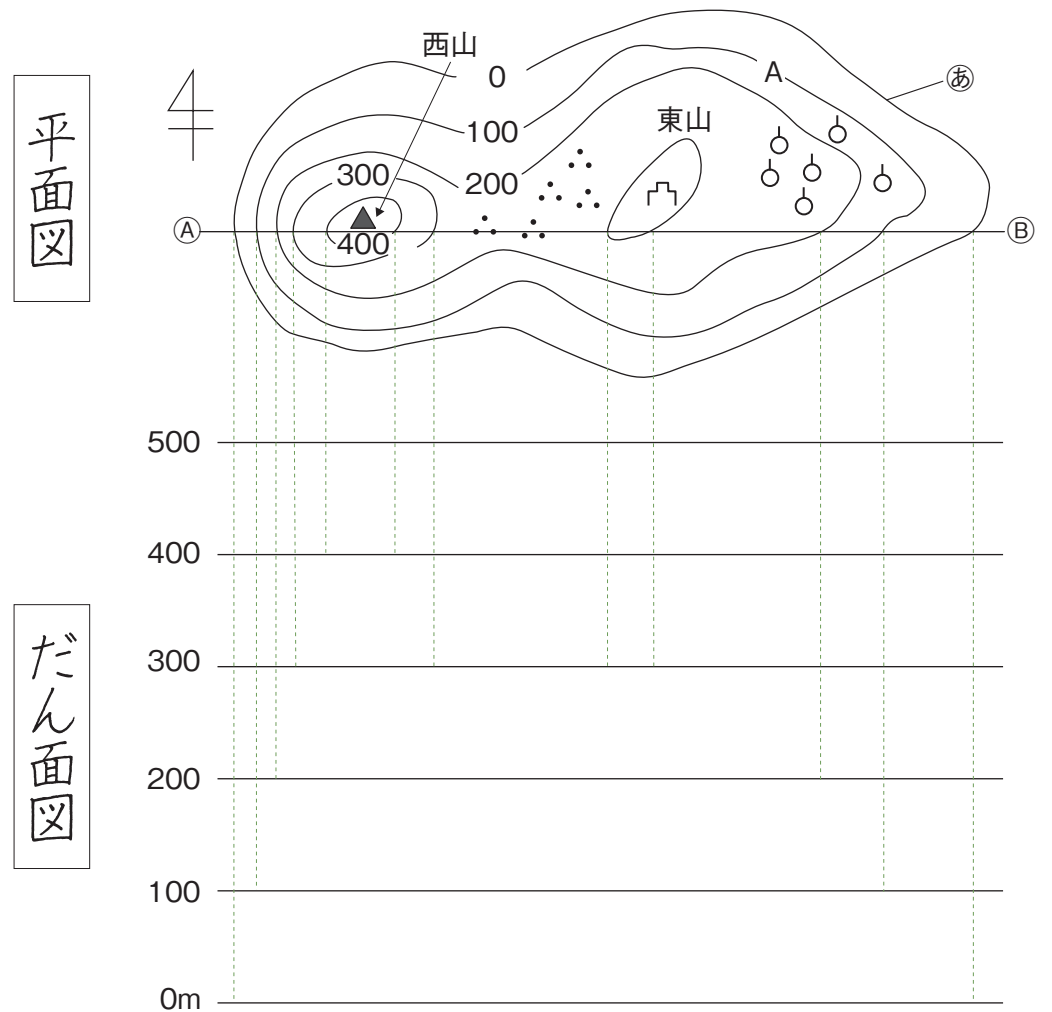
2 次の地図を見て答えましょう。



- 地図上で、1kmは、何cmで表されていますか。
 () cm
- 駅から神社 (F) までの実さいのきょりは何kmですか。
 ()

学習日 月 日 点/9点 名前

3 高さの等しい点を結んだ線(あ)を等高線といいます。

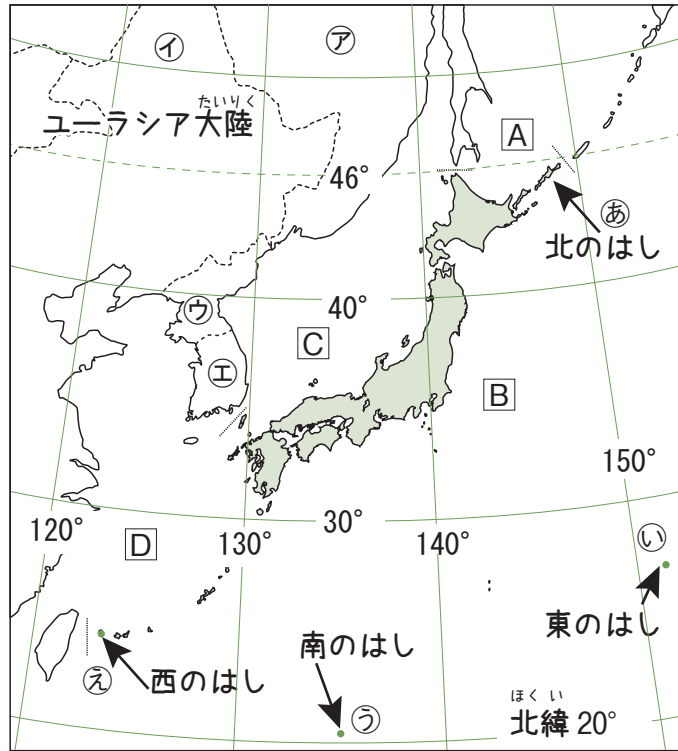


- 図のAとBを結んだ線で切っただん面図をかきましょう。
- 東山と西山では、どちらのしゃ面が急ですか。
 ()
- 西山のちょう上の高さは、およそ何mですか。
 ()

4 日本と世界 (2)



✿ 次の地図を見て、あとの問いに答えましょう。



(1) 次の () にあてはまる言葉を から選んで書きましょう。

日本は、(①)大陸の(②)側にあって北東から(③)にのびる細長い島国です。

日本は(④)半球にあり、北緯(⑤)度から(⑥)度まであり、気候がかなりちがいます。

20 46 北 ユーラシア 東 南西

学習日 月 日 点/22点 名前

(2) 次の島は、日本の一番はしにあります。図中の㉠～㉥から選んで書きましょう。

- ① みなみとり 南鳥島 ()
- ② えとろふ 択捉島 ()
- ③ おきのとり 沖ノ鳥島 ()
- ④ よなくに 与那国島 ()

(3) A～Dの4つの海の名前を から選んで書きましょう。

A		B	
C		D	

太平洋 日本海 東シナ海 オホーツク海

(4) 次の文とつながりのある国を図中の㉦～㉩から選び、線で結びましょう。

- ① ちょうせん 朝鮮半島の南半分をしめる国 ()
- ② 世界で一番広い面積を持つ国 ()
- ③ 朝鮮半島の北半分をしめる国 ()
- ④ 昔から交流が深く、人口がとても多い国 ()
- ㉠ れんぽう ロシア連邦
- ㉡ だいかんみんこく 大韓民国
- ㉢ ちゅうかじんみんきょうわこく 中華人民共和国
- ㉣ ちょうせんみんしゅしゅぎじんみんきょうわこく 朝鮮民主主義人民共和国