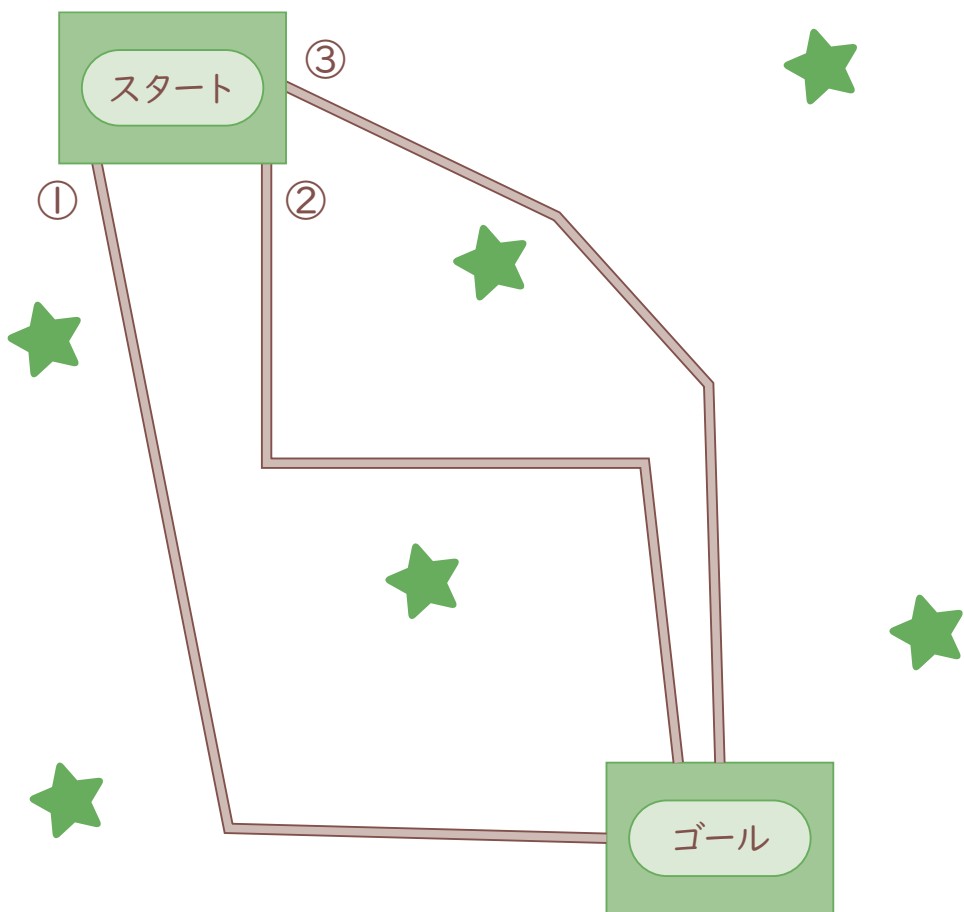


長さ (1)



月 日 名まえ

1 ゴールまで いちばん はやく 行けるのは どの 道かな？



はかって、たしてみよう！

はやく 行けるのは… ()

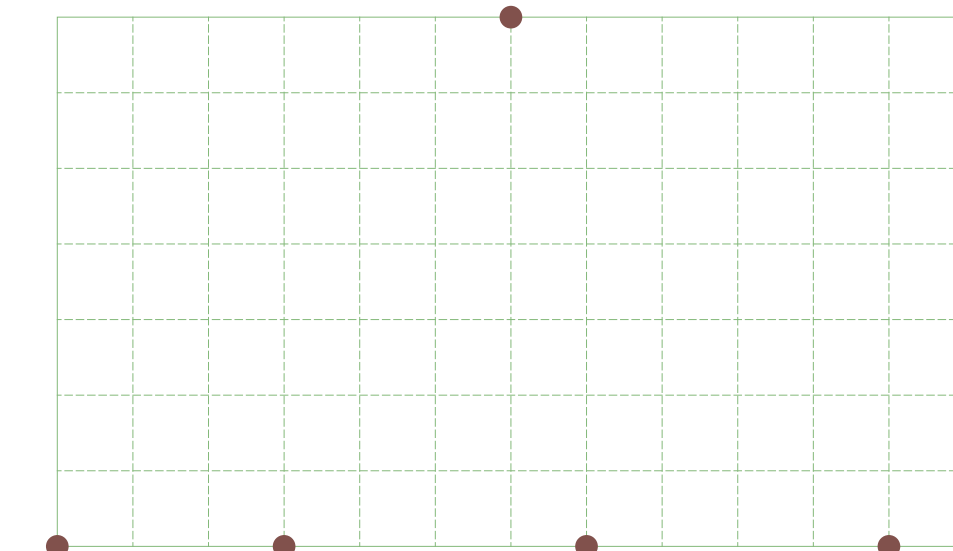
2 うさこさんの今日の おやつは 何かな？
下の お手紙を 読んで、ものさして 線を ひいて
すすんで みよう！

うさこへ
おやつは、下に 1cm、右に 4cm、
下に 5cm、左に 7cm、下に 1cm
行った ところにあるよ。 ママより



スタート

左 右



みかん



りんご



いちご



バナナ

おやつは… ()

長さ (1)



月 日

名
まえ

/100点

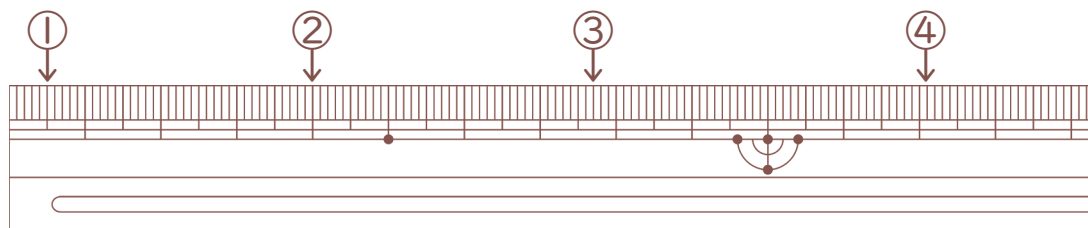
★ **1** () に あてはまる ^{なが}長さの ^{たんい}たんいを ^か書きましよう。
よういするもの…ものさし

(1もん5点)

- ① ノートの あつさ 4 ()
 ② ボールペンの 長さ 16 ()

★ **2** ものさしの 左はしから ①、②、③、④までの 長さを
書きましよう。


(1もん5点)



- ① () ② ()
 ③ () ④ ()

★ **3** つぎの テープの 長さを 書きましよう。

(1もん5点)

- ①  ()
 ②  ()

★ **4** □ に あてはまる ^{かず}数を 書きましよう。

(1もん5点)

- ① 7 cm = □ mm
 ② 80 mm = □ cm
 ③ 57 mm = □ cm □ mm
 ④ 3 cm 4 mm = □ mm

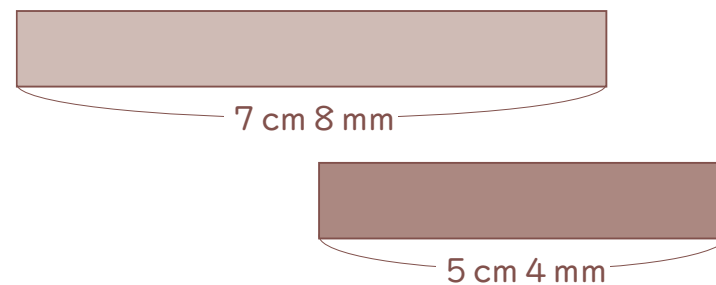
★ **5** つぎの ^{けいさん}計算を しましよう。

(1もん5点)

- ① 4 cm + 5 cm
 ② 8 cm + 3 cm
 ③ 10 cm - 4 cm
 ④ 6 cm 7 mm - 4 cm 2 mm

★★ **6** 2本の テープが あります。長さの ちがいを もとめましよう。

(しき10点・答え10点)



しき

こた
答え